

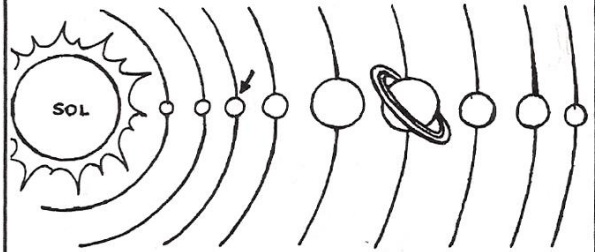
ROTEIRO DE ESTUDOS
1º BIMESTRE/2020
(Equivalente a 15 dias/aula)

Disciplina: Ciências 4ºA 4ºB	Professor: Mariana/Simone
Conteúdo: Sistema Solar e seus movimentos. (Revisão capítulo 1 e 2)	
Apostilas: Ciências -1ºBimestre	
Aprofundamento de Estudos:	
ATIVIDADE 1: Data:	
ATIVIDADE 2: Data:	
Orientações para elaboração das atividades: <ul style="list-style-type: none">• Procurar um lugar tranquilo e silencioso para realizar suas atividades com atenção.• Manter o hábito de estudo, assim como era feito em nossa rotina presencial.• Fazer uso da apostila como apoio, para os estudos e a realização das atividades.	

Este é o planeta _____.



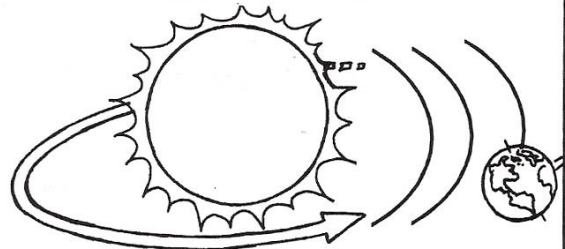
O planeta Terra pertence ao _____ solar.



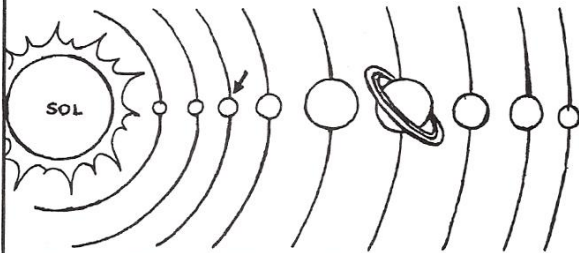
A Terra gira em torno de si mesma, é o movimento de _____.




A Terra gira ao redor do Sol, é o movimento de _____.



O Sistema Solar é formado por _____ planetas.




O _____ é o centro do Sistema Solar.



Completando...

- 1 - É formado por 1 estrela, 8 planetas e dezenas de satélites, planetóides e meteoritos: _____
- 2 - É o sexto planeta do sistema solar: _____
- 3 - São astros que giram em torno dos planetas _____
- 4 - O Sol é uma _____ de 5ª grandeza.
- 5 - Uma das inúmeras galáxias do Universo: _____
- 6 - É o quinto planeta do sistema solar: _____
- 7 - É o planeta mais quente porque está mais próximo do Sol: _____
- 8 - É o sétimo planeta do sistema solar: _____
- 9 - É o segundo planeta do sistema solar: _____
- 10 - É o centro e a única estrela do sistema solar. Oferece luz e calor a todo o sistema: _____
- 11 - É o planeta anão do nosso sistema solar _____
- 12 - É o terceiro planeta do sistema solar: _____
- 13 - É a lei da atração universal: _____





• Troque os desenhos por letras e escreva as principais conseqüências dos dois movimentos.

A	B	C/Ç	D	E	F	G	H	I	J	K	L	M

N	O	P	Q	R	S	T	U	V	X	Z

• Do movimento de rotação resultam:

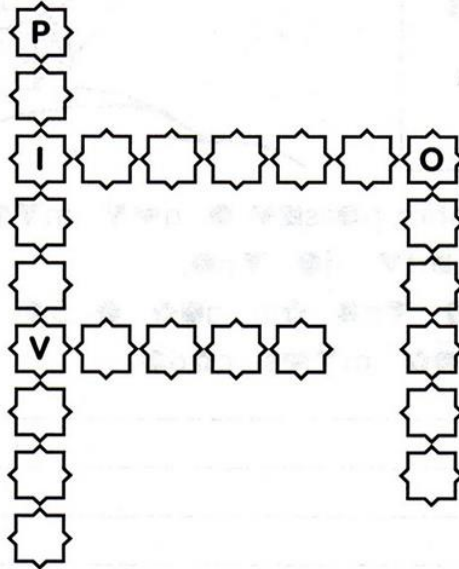
(Os dias e as noites)

• Do movimento de translação resultam:

(As estações do ano)

BRINCANDO E COMPLETANDO

✎ Escreva as letras que faltam e descubra as quatro estações do ano.



✎ Relacione a 2ª coluna de acordo com 1ª, conforme os meses em que ocorrem as estações do ano.

- | | |
|-------------|-----------------------------|
| ① Primavera | () De março a junho. |
| ② Verão | () De setembro a dezembro. |
| ③ Outono | () De junho a setembro. |
| ④ Inverno | () De dezembro a março. |



A inclinação da Terra dá origem às estações do ano.